



BNT



Ktorý otvorený stĺpec sa snaží biely ovládnuť?
 Urči umiestnenie a typ prekážky na stĺpci!
 Akým spôsobom bojuje proti prekážke ma stĺpci?
 Napíš variant!

"c"
 c, izolovaná
 narastajúci/odblokovat' + odohnat' obrannú figúru
 1.Sc7 Vxc7 2.Db7+ Vxb7 3.Vxc5 MAT


ČNT



Pri tomto kombinovanom ovládaní otvorených stĺpcov záleží na presnom určení bodu vniku. Urči!
 Napíš variant!

f2
 1...Df2 2.Vxf2 Ve1 ...
 2.Dxc8+ Vxc8 3.Vxf2 Vc1+ ...
 2.Jg3 De1+ ...

BNT



Ovládanie otvorených stĺpcov je približne v rovnováhe. Tu zvíťazí ten, kto efektívnejšie ovládne posledný rad. Len je potrebné skĺbit' obrannú a útočnú činnosť.
 BOD VNIKU?
 VARIANTA?

d8
 1.Sf4! Da1+ 2.Kh2 Vxc2 3.Vd8+ Sf8 4.Sh6 ...