


(odpovedajte aj na uvedené otázky, potom počítajte variantu)

BNT




KTO má výhodu?

PREČO?

VARIANT - manéver na ovládnutie stĺpca a bodu vniku!

ČNT



Čierny chcel vyhnat' jazdca f4 z centra, preto potiahol:


1...e5. Ved' bod d5 kryje jazdec z f6.

Je to správne?

PREČO?

VARIANT!

BNT



Biely neovláda absolútne stĺpec d, pretože je na ňom zaistená

prekážka. Čierny si naplánoval po Jd5 jeho vyhnanie c6 a

chytenie jazdca na b6.

JE to správne?

VARIANT po Jd5 a c6!