


BNT



KTO má výhodu?

PREČO?

VARIANT - manéver na ovládnutie stĺpca a bodu vniku!


biely

zaostalý pb6, slabý bod b5, OS "c", možnosť uzavrieť "d"

1.d5! cxd5 2.e5 V5d7 3.Jd4

(otvoril "c", uzavrel "d", J blokuje pd5, veže smerujú na 7. rad, K na e3 - centralizovanie ...)

ČNT



Čierny chcel vyhnat jazdca f4 z centra, preto potiahol:

1...e5. Ved' bod d5 kryje jazdec z f6.

Je to správne?

PREČO?


VARIANT!

nie

forpost, po Jxd5 - exd5 príde o jazdca c6

1...e5 2.Jd5 napr. Vhe8 3.Jb4 - Sxc6 - Da6 ...

BNT



Biely neovláda absolútne stĺpec d, pretože je na ňom zaistená prekážka. Čierny si naplánoval po Jd5 jeho vyhnanie c6 a chytenie jazdca na b6.

JE to správne?

VARIANT po Jd5 a c6!

nie

1.Jd5 c6 2.Jf6+ gxf6 3.Vg1+ Kh8 4.Dxd6 ...