


(odpovedajte aj na uvedené otázky, potom počítajte variantu)


BNT



Rozoberte!

Vytvorte priechod. pešiaka!

BNT




Čierny hrozí zablokovať otvor. stĺpec. Čo musí biely urobiť?

Ktorý pešiak má šancu stať sa priechodným?

Variant!


BNT



Biely pešiak d5 má šancu stať sa priechodným. Ale je napadnutá dáma. Ako to zariadiť?

Variantu!

ČNT



Čierneho priechodného pešiaka blokuje biely kráľ. Je to dobrá blokáda?

Variantu!